


# Arbeitsblatt Zahlenstrahl 1


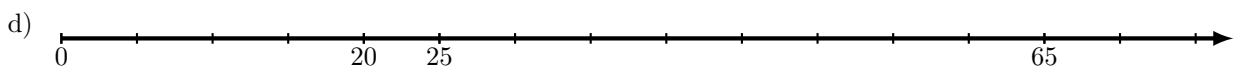
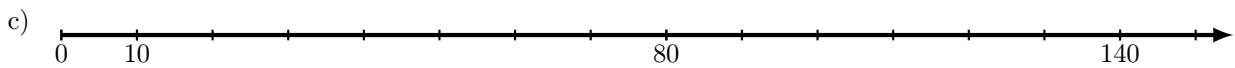
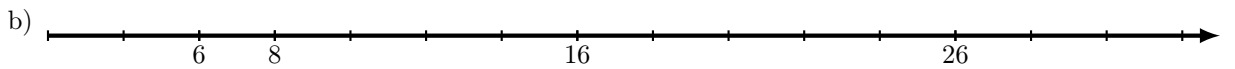
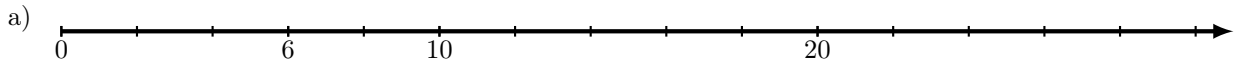
Auf dem Zahlenstrahl stehen die Zahlen nach Größe geordnet. Am Anfang (links) steht die Null. Nach rechts werden die Zahlen immer größer und der Abstand zwischen zwei benachbarten Zahlen ist immer gleich. Der Zahlenstrahl bekommt rechts eine Pfeilspitze, da es in dieser Richtung bis unendlich weitergeht. Manchmal hat man auch einen Ausschnitt, der nicht mit der Null beginnt.



Steht eine Zahl weiter rechts, so ist sie größer, steht sie weiter links, dann ist sie kleiner.


## Aufgaben

1. Ergänze die fehlenden Zahlen am Zahlenstrahl.



2. Trage folgende Zahlen in den Zahlenstrahl.

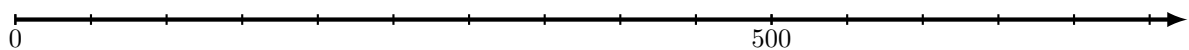
a) A: 50    B: 80    C: 120    D: 70



b) A: 6    B: 12    C: 8    D: 26



c) A: 700    B: 450    C: 200    D: 350



3. Bestimme die gesuchten Zahlen.

